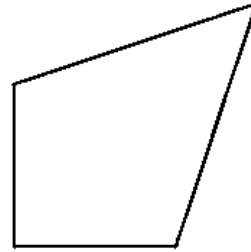
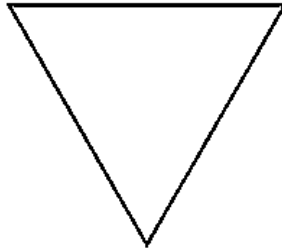
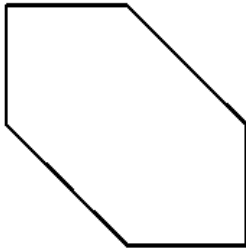


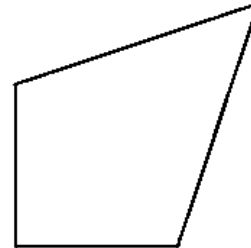
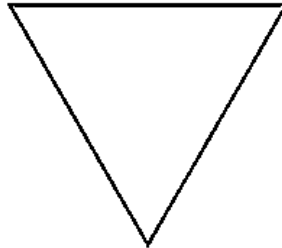
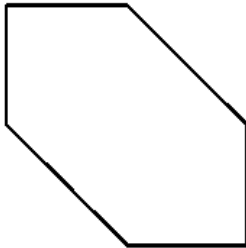
Extra oefenblad H1

Opdracht 1:

a. Laat zien welke hoeken recht zijn.



b. Laat zien welke zijden even lang en evenwijdig zijn.



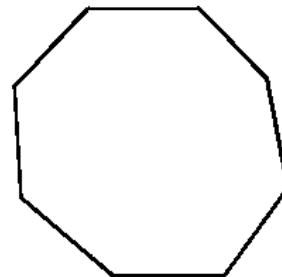
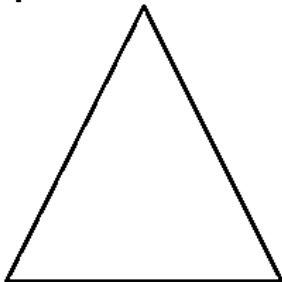
.....

.....

.....

c. Zet de namen bij de figuren hierboven.

Opdracht 2:



.....

.....

.....

a. Zet de juiste tekens in de figuren.

b. Zet de namen onder de figuren.

Opdracht 3:

Ayoub heeft een figuur getekend.

- Het figuur heeft 4 zijden
- De zijden zijn per paar even lang
- Het heeft geen rechte hoeken
- Het heeft geen symmetrieas.

Welk figuur heeft Ayoub getekend?

.....

Opdracht 4:

Bereken steeds de hoek met het vraagteken.

